

算数のまとめ～図形

準備…定規・コンパス

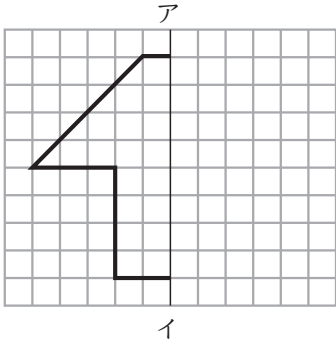
めあて：面積や体積を求めることができる。
線対称・点対称な図形、拡大図・縮図、
柱体の展開図の作図ができる。

6年 組 番

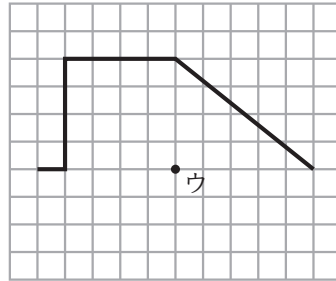
名前

1 下の図を完成させましょう。

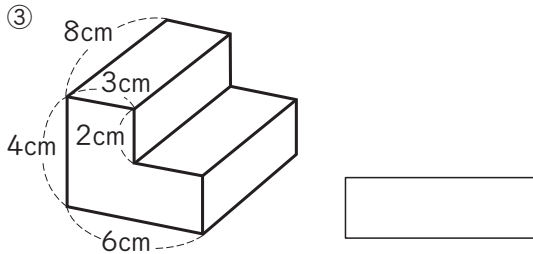
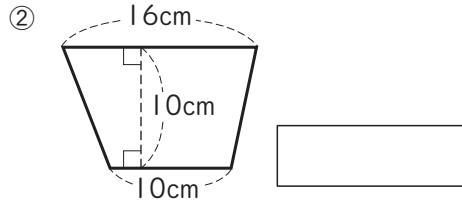
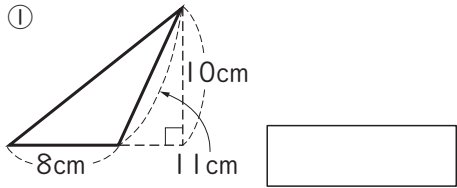
① アイを対称の軸とする
線対称な図形



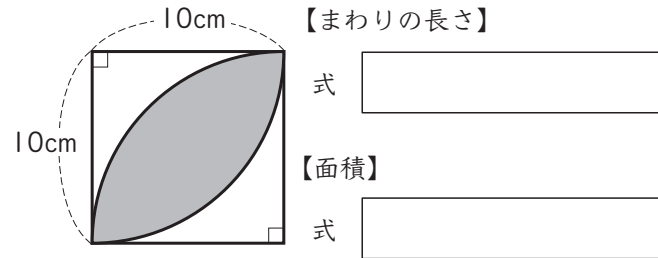
② 点ウを対称の中心とする
点対称な図形



2 下の①、②は面積、③は体積を求めましょう。



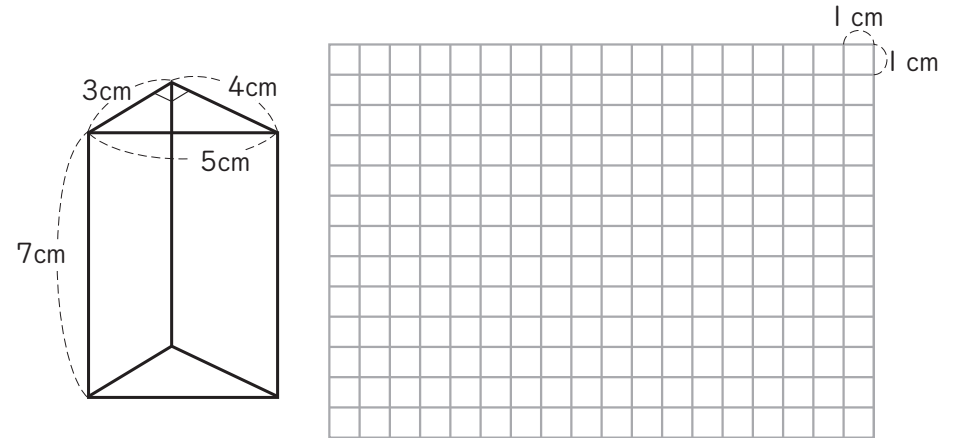
3 色のついた部分のまわりの長さや面積を求めましょう。



答え

答え

4 下の立体の展開図をかきましょう。



5 下の四角形の2倍の拡大図をかきましょう。

