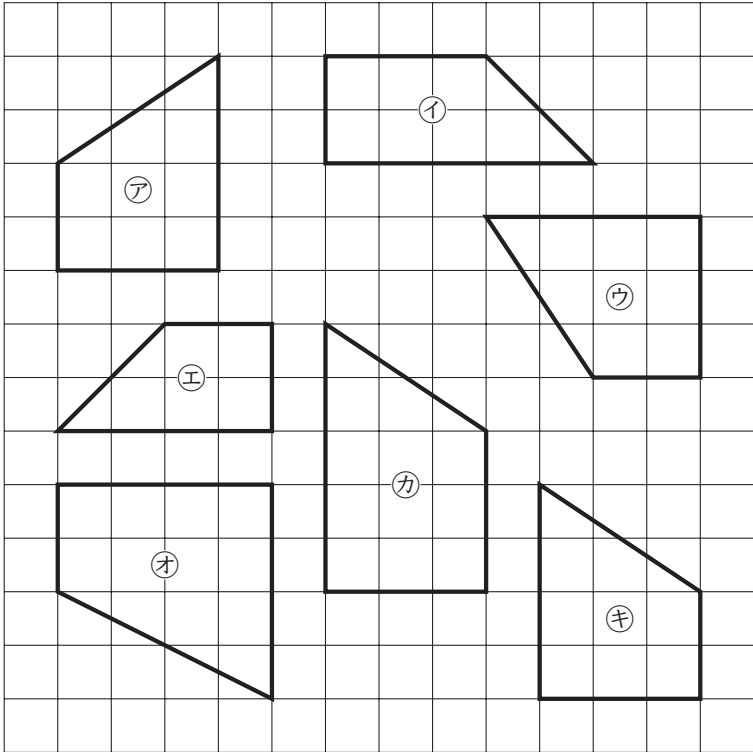


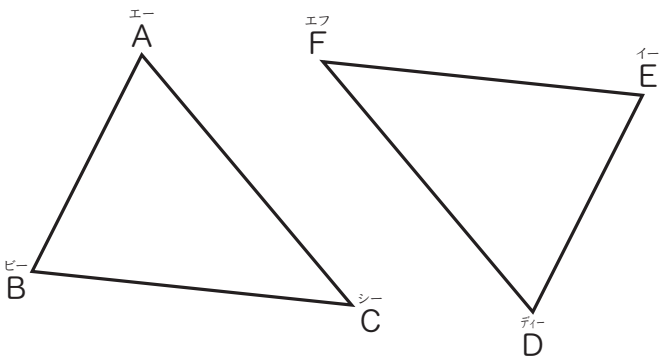
① 対称な図形

6年	組	番
名前		

① 下の四角形の中から、アの四角形と合同な四角形を全部見つけて、記号で答えましょう。



② 下の2つの三角形は合同です。次の問いに答えましょう。

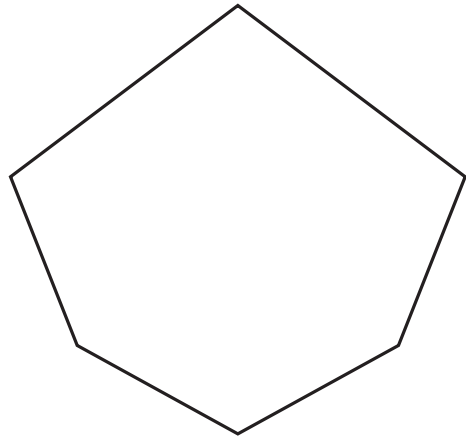


① 辺ACに対応する辺はどれですか。

② 角Bに対応する角はどれですか。

次の問題は、まだ学習していない内容です。

① 下の図形を二つ折りにして、ぴったり重ね合わせます。どこを折り目にすればよいでしょうか。下の図に折り目の直線をかき入れましょう。



② 下の図の平行四辺形ABCDを点Oを中心として回転させます。回し始めて、最初にもとの図形にぴったり重なるのは、何度回転させたときですか。

