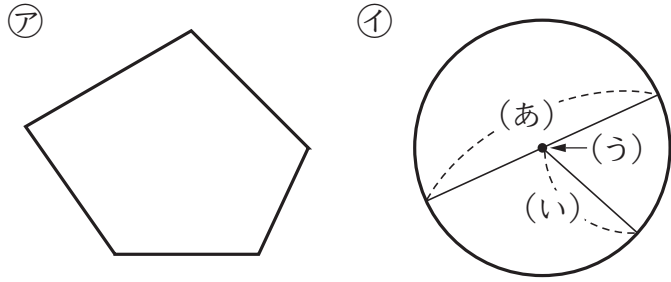


**⑰ 正多角形と円周の長さ**

5年	組	番
名前		

① 下の図を見て、問題に答えましょう。



① (ア)は何という図形ですか。

② (ア)の図形の5つの角の大きさの和は何度ですか。

③ (イ)の円で、(あ)、(い)、(う)は、それぞれ何といいますか。

(あ)

(い)

(う)

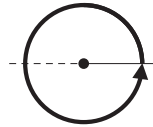
② 半径が3cmの円をかきましょう。

③ □にあてはまる数を書きましょう。

① 半回転の角度

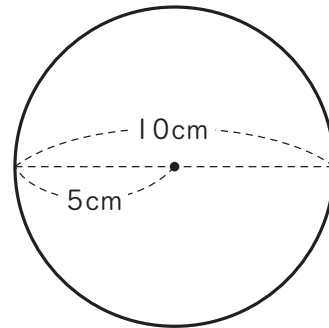
°


② 1回転の角度

°


⬇ 次の問題は、まだ学習していない内容です。

① 下の円のまわりの長さを求めましょう。



式

答え