

割合

準備…電卓 でんたく

5年 組 番

名前

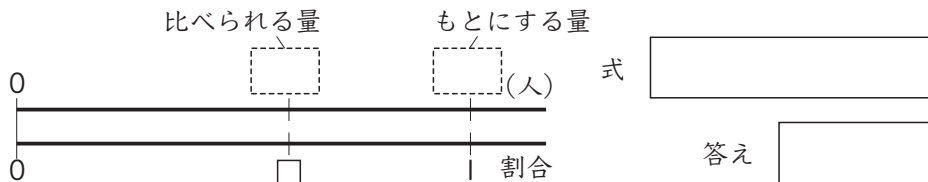
めあて：割合や百分率の意味がわかり、問題を解くことができる。

① わりあい 割合を求める式を書きます。

ア、イにあてはまる言葉を書きましょう。

割合 = ÷

② さとしさんのクラスは全員で40人です。そのうち男子は24人います。クラス全員の人数をもとにして に数を書き、男子の人数の割合を求めましょう。



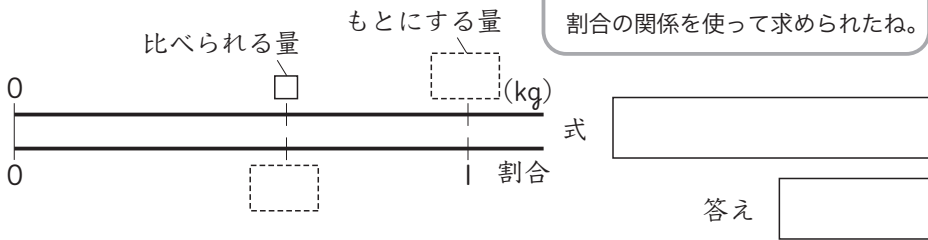
③ 小数で表した割合を百分率で、百分率で表した割合を小数で表しましょう。

- ① 0.08 ② 0.3 ③ 6% ④ 134%

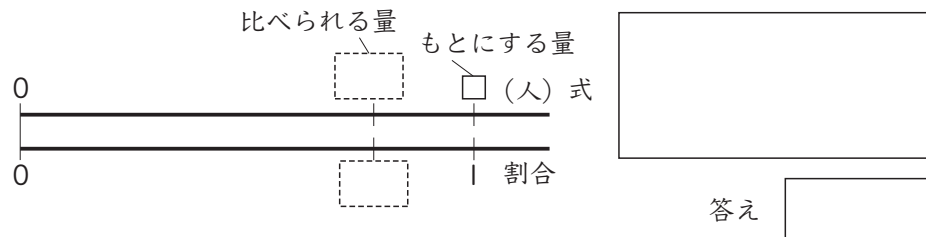
④ 大人の人間の体重の約60%は水分だといわれています。

体重68kgの人の水分は何kgですか。

比べられる量 = もとにする量 × 割合の関係を使って求められたね。



⑤ 電車のある車両に102人の乗客が乗っています。これは定員の85%の人数です。この車両の定員は何人ですか。



⑥ まみさんはある筆箱を買うために、^{エー}A店と^{ビー}B店に行きました。

A店
450円の筆箱が
なんと！ 38%引き

B店
450円の筆箱が
なんと！ 270円

① A店の筆箱はいくらですか。

式 答え

② 筆箱が安いのは、A店とB店のどちらですか。

③ B店の筆箱は何%引きですか。

式 答え

⑦ ある店では、仕入れのねだんが1500円のTシャツに、20%の^{りえき}利益を加えて売ります。売るねだんはいくらですか。

式 答え