

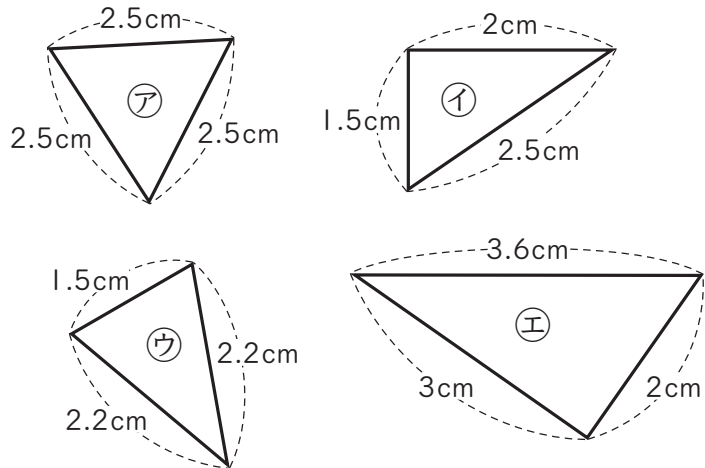
7 図形の角

5年	組	番
名前		

1 □にあてはまる数を書きましょう。

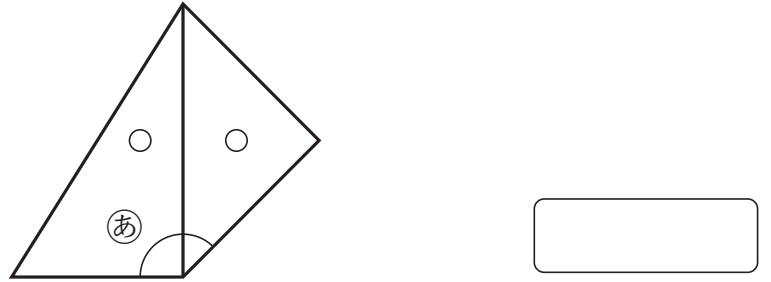
- ① 二等辺三角形では、□つの角の大きさが等しくなっています。
- ② 正三角形では、□つの角の大きさが等しく、1つの角の大きさは□度です。
- ③ 半回転の角度 = □度
- ④ 4直角 = □度

2 下の三角形を見て、記号で答えましょう。

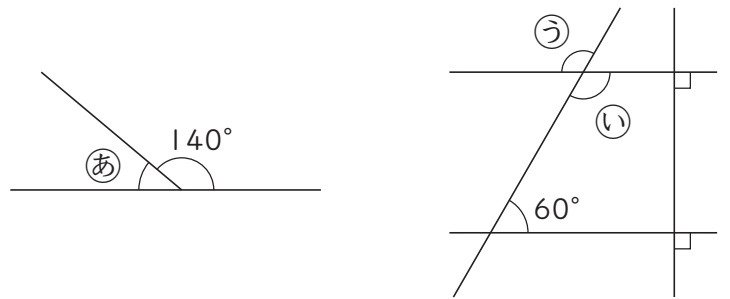


- ① 二等辺三角形はどれですか。
- ② 正三角形はどれですか。

3 下の図のように三角定規を組み合わせた。あ^{しょうぎ}の角度は何度ですか。



4 あ、い、うの角度は、それぞれ何度ですか。



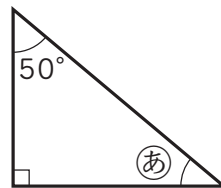
あ

い

う

次の問題は、まだ学習していない内容です。

1 あ、いの角度は、それぞれ何度ですか。



あ

い