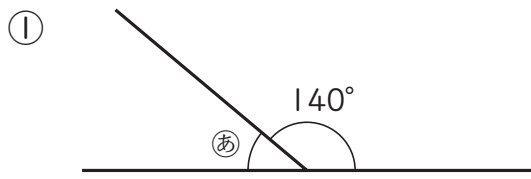


⑥ 合同な図形

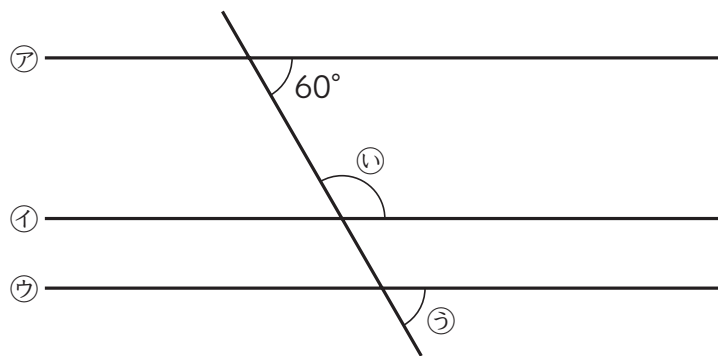
5年	組	番
名前		

① 下のあ、い、うの角度は何度ですか。



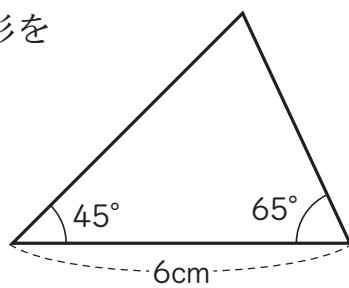
あ

② ア、イ、ウの直線は平行



い う

② 右の図のような三角形をかきましょう。



① 次の問題は、まだ学習していない内容です。

① 下の三角形の中から、アの三角形と合同な三角形を全部見つけて、記号で答えましょう。