

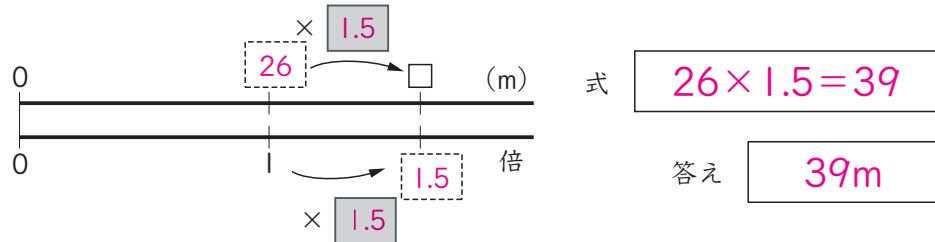
どんな計算になるのかな？

5年 ___組 ___番

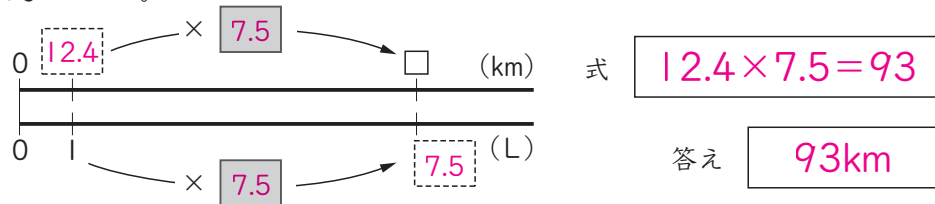
めあて：問題場面をとらえ、正しく式を立てて
答えを求めることができる。

名前 _____

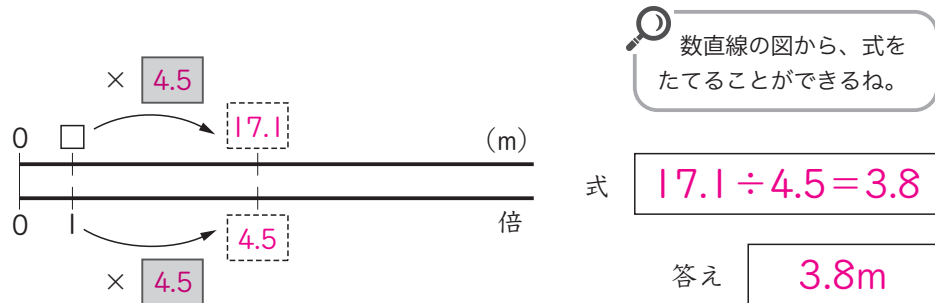
- ① えい画館のビルの高さは26mです。タワーの高さはえい画館の高さの1.5倍あります。タワーの高さは何mですか。



- ② 1Lのガソリンで12.4km走る車があります。7.5Lのガソリンでは何km走れますか。



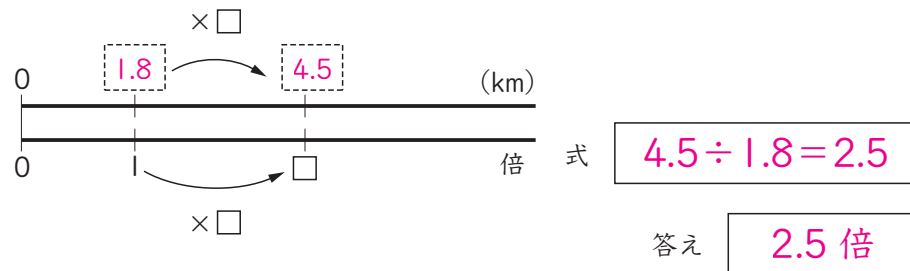
- ③ 長方形の形をしたビニールハウスがあります。横の長さは17.1mで、たての長さの4.5倍です。たての長さは何mですか。



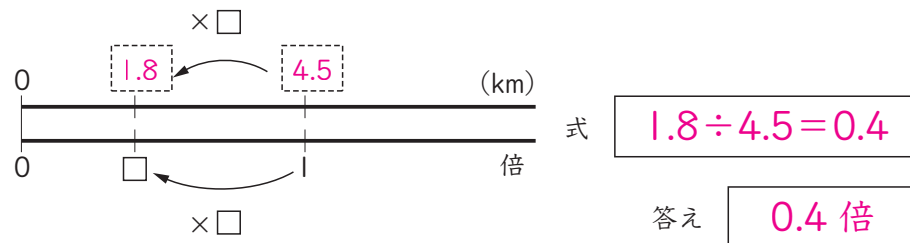
数直線の図から、式をたてることができるね。

- ④ 東山トンネルの長さは1.8km、西山トンネルの長さは4.5kmです。

- ① 西山トンネルの長さは東山トンネルの長さの何倍ですか。



- ② 東山トンネルの長さは西山トンネルの長さの何倍ですか。



- ⑤ 海岸の市場であさりを買いました。1.8kgで882円でした。1kgではいくらですか。

