

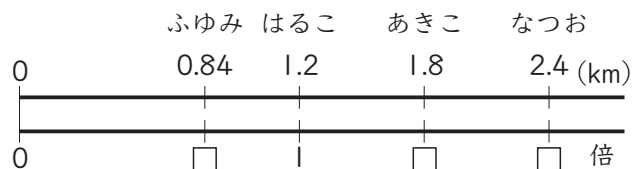
小数の倍

5年 組 番

名前 _____

めあて：小数の倍の意味を正しく理解する。

- ① 右の表は、はるこさんたちの家から駅までの道のりを表しています。はるこさんの家から駅までの道のりをもとにすると、他の人の家から駅までの道のりはそれぞれ何倍ですか。



名前	道のり(km)
はるこ	1.2
なつお	2.4
あきこ	1.8
ふゆみ	0.84

① なつお

式 $2.4 \div 1.2 = 2$

答え 2倍

② あきこ

式 $1.8 \div 1.2 = 1.5$

答え 1.5倍

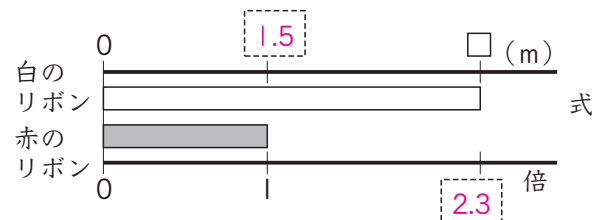
③ ふゆみ

式 $0.84 \div 1.2 = 0.7$

答え 0.7倍

倍を表す数が整数のときも、小数のときも、意味は同じだね。

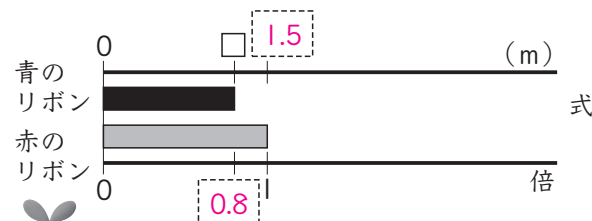
- ② 赤・白・青の3つのリボンがあります。赤のリボンが1.5mです。赤のリボンをもとにすると、白のリボンは2.3倍、青のリボンは0.8倍の長さです。白と青のリボンはそれぞれ何mですか。□に数を書いて考えましょう。



【白のリボン】

式 $1.5 \times 2.3 = 3.45$

答え 3.45m



【青のリボン】

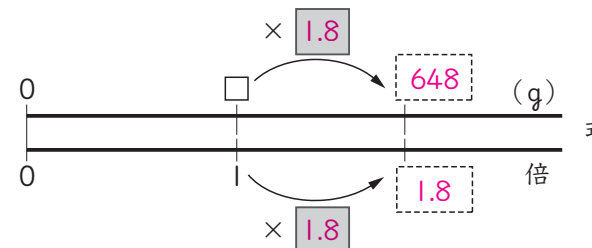
式 $1.5 \times 0.8 = 1.2$

答え 1.2m



数直線の図を見て、もとにする大きさが何かを考えて式をたてよう。

- ③ ももかさんの家には、生後10日の犬がいます。今の体重は648gで、生まれたときの体重の1.8倍です。生まれたときの犬の体重は何gでしたか。□と□に数を書いて考えましょう。



式 $648 \div 1.8 = 360$

答え 360g