

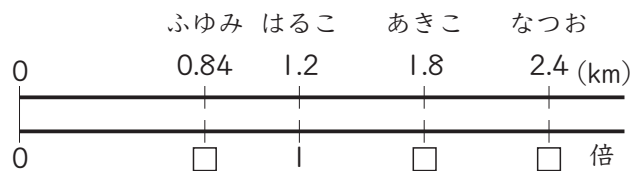
小数の倍

5年 組 番

名前 _____

めあて：小数の倍の意味を正しく理解する。

- ① 右の表は、はるこさんたちの家から駅までの道のりを表しています。
 はるこさんの家から駅までの道のりをもとにすると、他の人の家から駅までの道のりはそれぞれ何倍ですか。



名前	道のり(km)
はるこ	1.2
なつお	2.4
あきこ	1.8
ふゆみ	0.84

① なつお

式

答え

② あきこ

式

答え

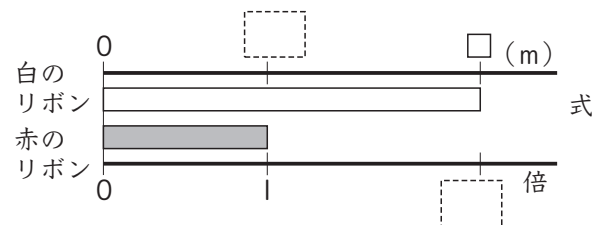
③ ふゆみ

式

答え

倍を表す数が整数のときも、
 小数のときも、意味は同じだね。

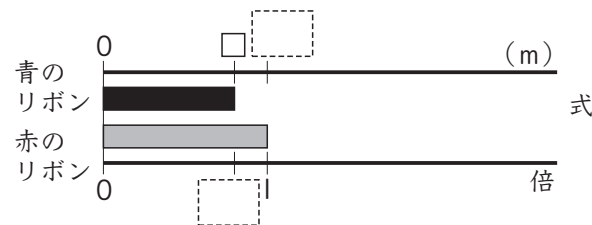
- ② 赤・白・青の3つのリボンがあります。赤のリボンが1.5mです。
 赤のリボンをもとにすると、白のリボンは2.3倍、青のリボンは0.8倍の長さです。白と青のリボンはそれぞれ何mですか。□に数を書いて考えましょう。



【白のリボン】

式

答え

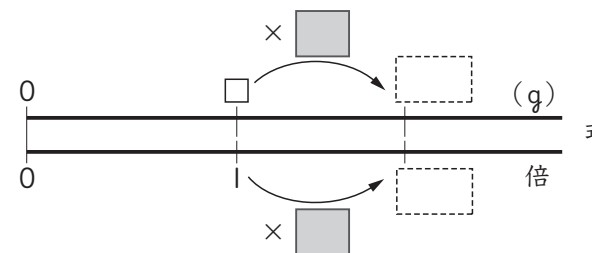


【青のリボン】

式

答え

- ③ ももかさんの家には、生後10日の犬がいます。今の体重は648gで、
 生まれたときの体重の1.8倍です。生まれたときの犬の体重は何gでしたか。
 ■と□に数を書いて考えましょう。



式

答え