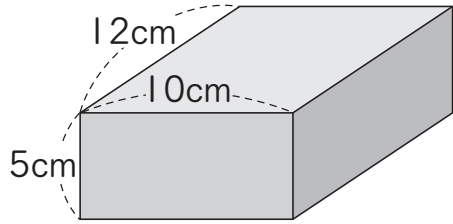


14 直方体と立方体

| | | |
|----|---|---|
| 4年 | 組 | 番 |
| 名前 | | |

1 下のような箱の形について
答えましょう。



① 面の形は、何という四角形ですか。

② 面はいくつありますか。

 つ

③ 形も大きさも同じ面は、それぞれいくつずつ何組ありますか。

 つずつ 組

④ 頂点ちやうてんはいくつありますか。

 つ

⑤ 次の長さの辺へんは、いくつありますか。

5cmの辺 つ

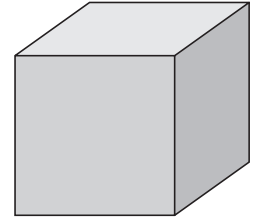
10cmの辺 つ

12cmの辺 つ

⑥ たてが12cm、横が10cmの
長方形の面は、いくつありますか。

 つ

2 右のようなさいころ
の形を作ります。

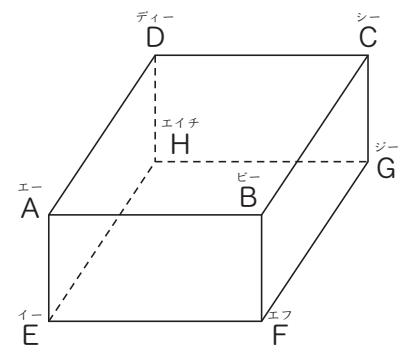


① 長さの等しい辺は、いくつ
ありますか。

② 正方形の面は、いくつありますか。

次の問題は、まだ学習していない内ようです。

1 右の形を見て
答えましょう。



① 辺ABと辺ADは、垂直すいちよくになって
います。頂点Bを通過して、辺BFに
垂直な辺はどれですか。2つ
答えましょう。

 辺、辺

② 辺ABと辺DCは、平行になって
います。辺BFに平行な辺はどれ
ですか。3つ答えましょう。

 辺、辺、辺