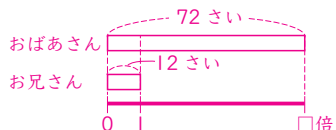


どんな計算になるのかな？

4年 ___組 ___番

めあて：正しく立式して、答えを出すことができる。名前 _____

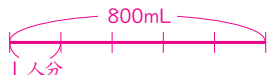
- ① まみさんのおばあさんは72さいで、お兄さんは12さいです。おばあさんの年れいは、お兄さんの年れいの何倍ですか。



式 $72 \div 12 = 6$

答え **6倍**

- ② ジュースが800mLあります。5人で等分すると、1人分は何mLになりますか。



式 $800 \div 5 = 160$

答え **160mL**

- ③ 300円を持ってだがし屋へ行きました。148円のスナックがしを1ふくろと、42円のチョコレートを何か買います。チョコレートは何こまで買うことができますか。



スナックがしのねだんをひいた残りのお金152円でチョコレートをかうんだね。

式 $(300 - 148) \div 42 = 3 \text{ あまり } 26$

答え **3こ**

- ④ 0.4Lのジュースが入ったペットボトルが150円で売られています。12本買うと、ジュースは全部で何Lになりますか。

式 $0.4 \times 12 = 4.92$

答え **4.92L**

- ⑤ 1.5kmの道のりを走ります。0.6km走りました。残りの道のりは何kmですか。

式 $1.5 - 0.6 = 0.9$

答え **0.9km**

- ⑥ たてが50m、横が40mの長方形の形をした田んぼがあります。この田んぼの面積は何 m^2 ですか。また、何aですか。

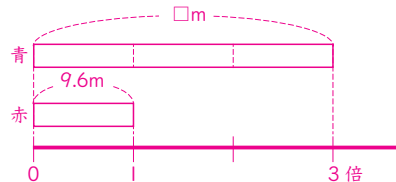


1a=100 m^2 だね。

式 $50 \times 40 = 2000$

答え **2000 m^2 、20a**

- ⑦ 赤いテープの長さは、9.6mです。青いテープの長さは、赤いテープの長さの3倍です。青いテープの長さは、何mですか。



式 $9.6 \times 3 = 28.8$

答え **28.8m**

- ⑧ あきさんの家の車は、1Lのガソリンで18km走ることができます。あきさんの家から海までの道のりは54kmです。あきさんの家から海までの道のりをおうふくすると、ガソリンを何L使いますか。

(べつの考え)
かた道で使うガソリンは
 $54 \div 18 = 3 \text{ 3L}$
おうふくなので
 $3 \times 2 = 6 \text{ 6L}$

式 $54 \times 2 \div 18 = 6$

おうふくの道のり 答え **6L**