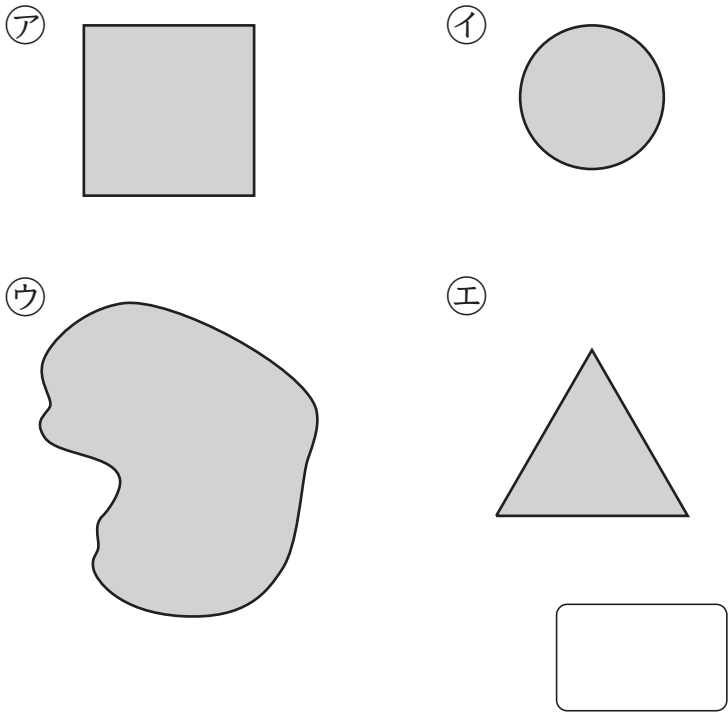


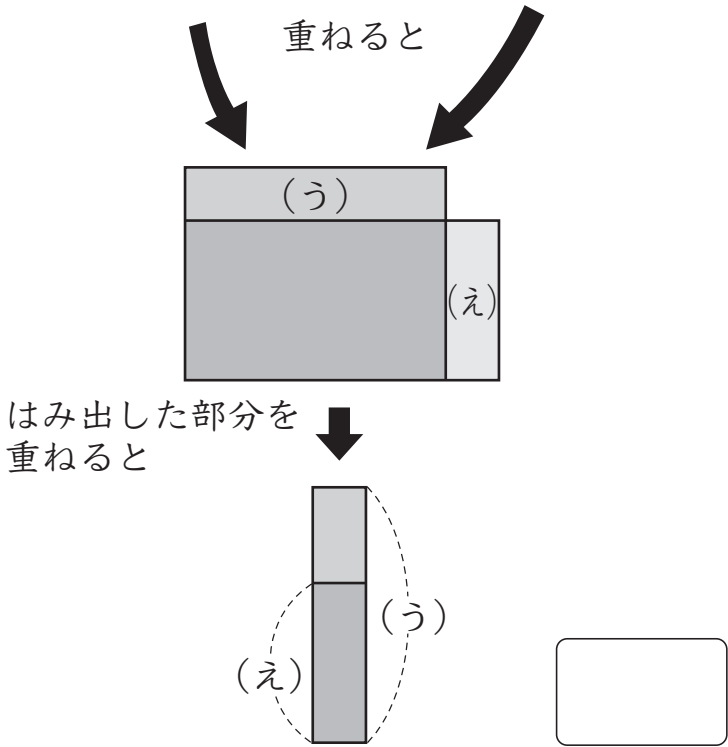
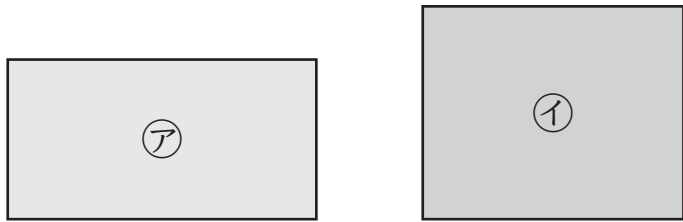
⑫ 面積のくらべ方と表し方

4年	組	番
名前		

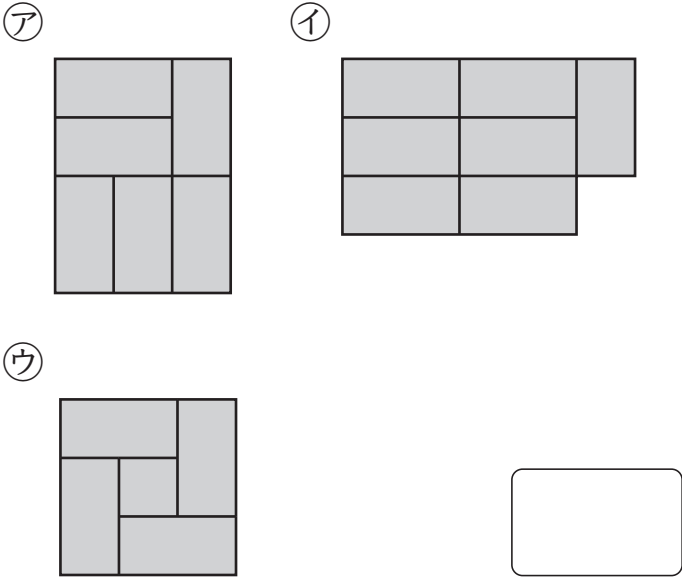
1 下の図で、いちばん広いのはどれですか。記号で答えましょう。



2 ②と①の長方形は、どちらが広いでしょうか。記号で答えましょう。

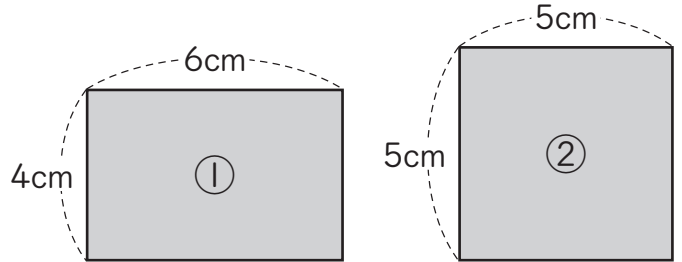


3 たたみの部屋を上から見ました。いちばん広い部屋はどれですか。記号で答えましょう。



次の問題は、まだ学習していない内ようです。

1 下の四角形の広さをくらべました。正しいのはどれですか。()に○をつけましょう。また、^{えら}選んだわけも書きましょう。



- () ①のほうが広い。
- () ②のほうが広い。
- () どちらも同じ。

わけ