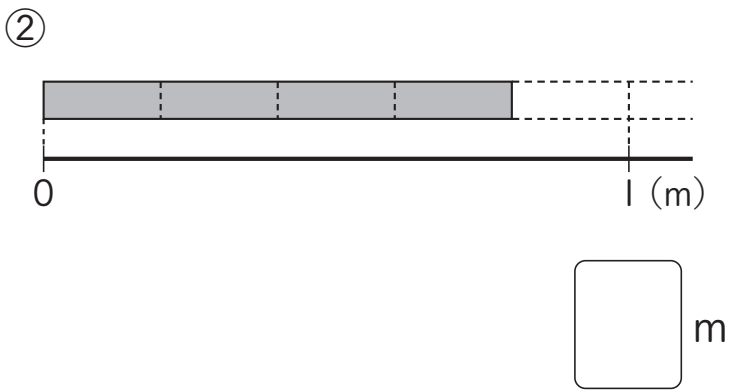
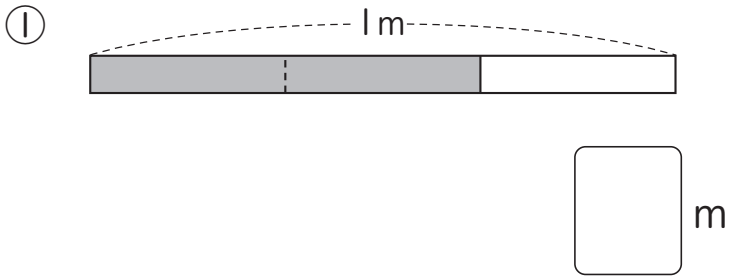


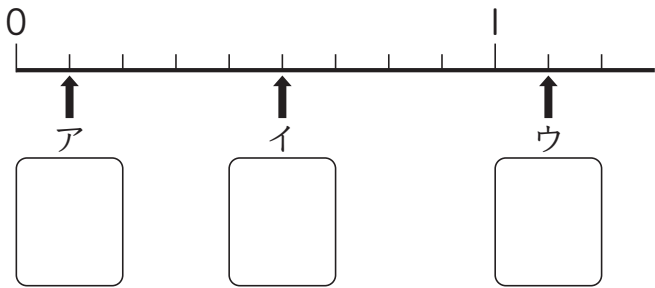
**10** 分数

4年	組	番
名前		

**1** 下の図で、色をぬった部分の長さは何mですか。分数で表しましょう。



**2** 下の数直線で、ア、イ、ウのめもりが表す分数を書きましょう。



**3** □にあてはまる数を書きましょう。

①  $\frac{5}{7}m$ は、□ mの5こ分です。

②  $\frac{1}{4}$ の5こ分は、 $\frac{\square}{4}$ です。

③ 0.7を分数で表すと、□ です。

**4** 計算をしましょう。

①  $\frac{3}{8} + \frac{4}{8}$

②  $\frac{1}{6} + \frac{5}{6}$

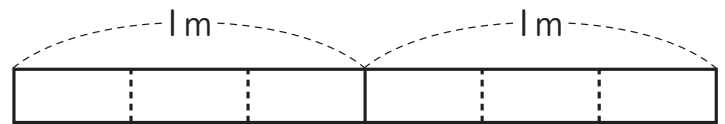
③  $\frac{5}{7} - \frac{3}{7}$

④  $1 - \frac{3}{4}$

次の問題は、まだ学習していない内ようです。

**1** 次の長さやかさの分だけ色をぬりましょう。

①  $1\frac{2}{3}m$



②  $2\frac{1}{4}L$

