

⑨ 垂直、平行と四角形-2

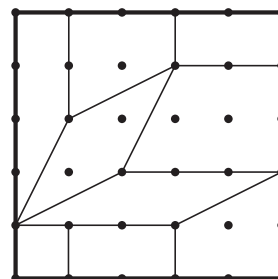
4年

組

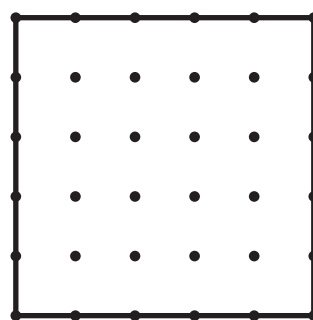
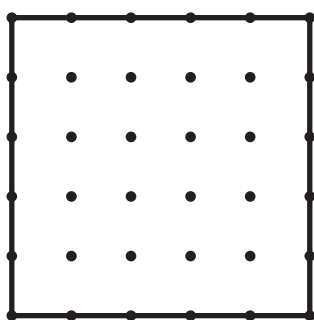
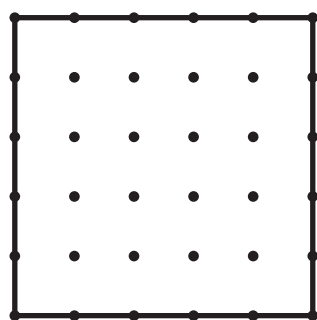
番

名前

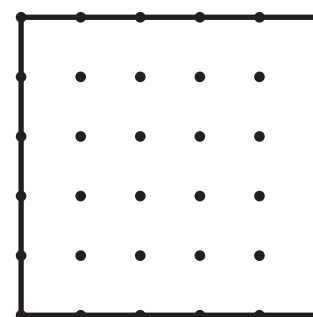
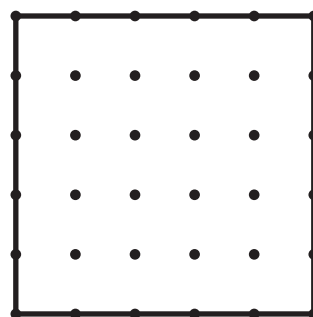
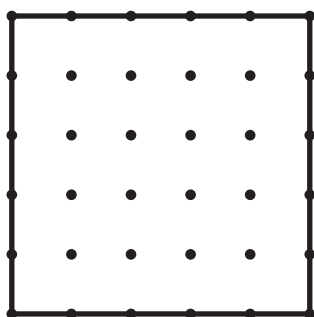
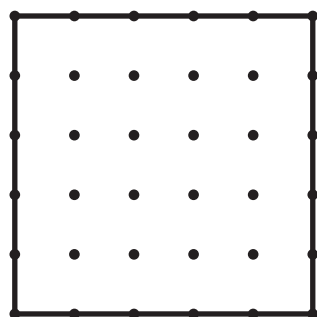
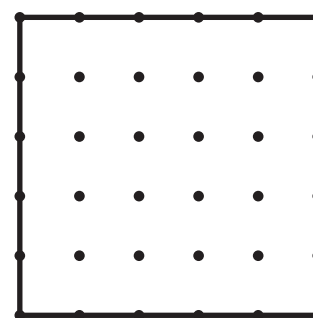
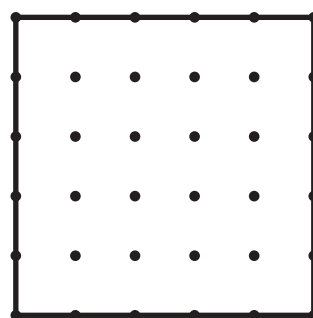
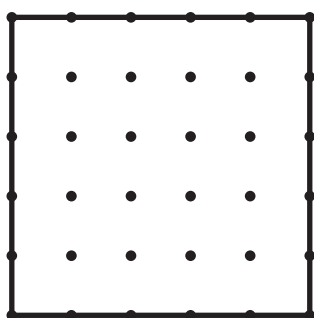
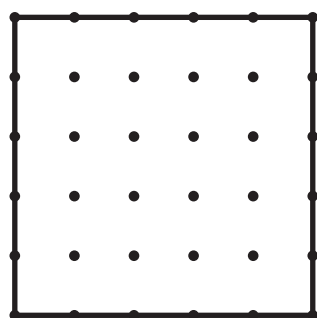
1 右のように、<sup>むす</sup>・と・を結んで、大きな正方形を、台形、<sup>へいこうし へんけい</sup>平行四辺形、ひし形、長方形、正方形の<sup>しゅるい</sup>5種類の四角形に分けます。



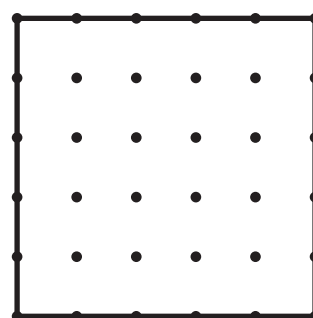
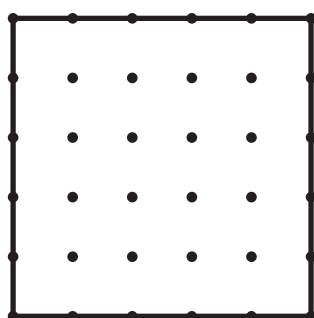
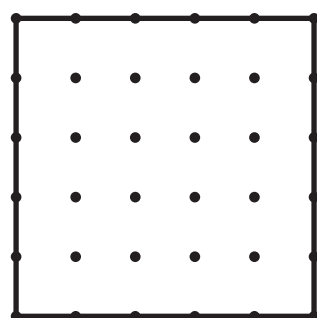
1 どの四角形も少なくとも1つはできるように分けてみましょう。



三角形が<sup>のこ</sup>残らないように気をつけてね。  
ひし形はどこにしようかな。



2 四角形の数がいちばん少なくなる分け方を考えましょう。



じょうけんを<sup>か</sup>変えてみよう。「いちばん多くなる」分け方は…。

