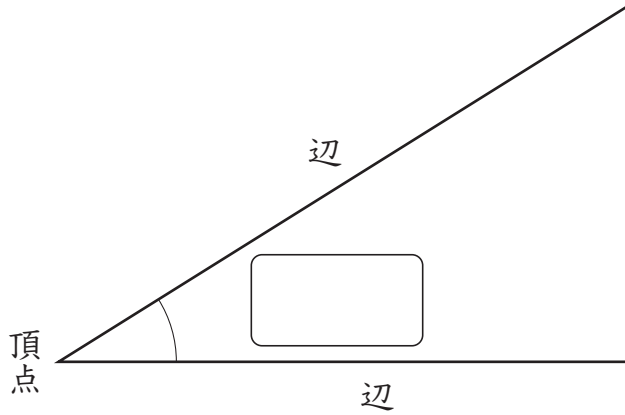


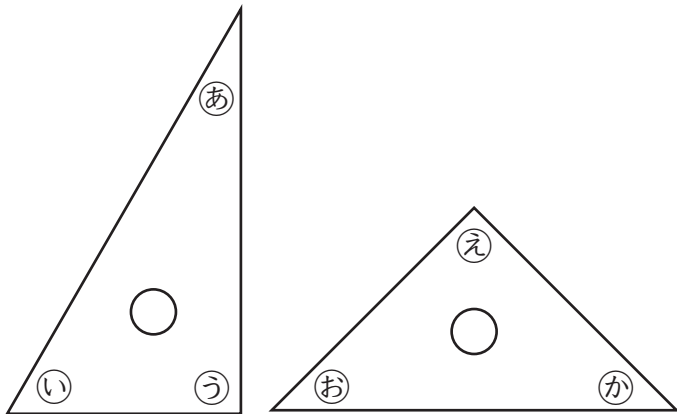
# ④ 角の大きさ

4年	組	番
名前		

① 下の図のように、1つの頂点ちようてんから  
 出ている2つの辺へんのつくる形を何と  
 いいますか。



② 下の2つの三角じようぎを見て、  
 次の問題に記号で答えましょう。



① いちばん小さい角はどれですか。

の角

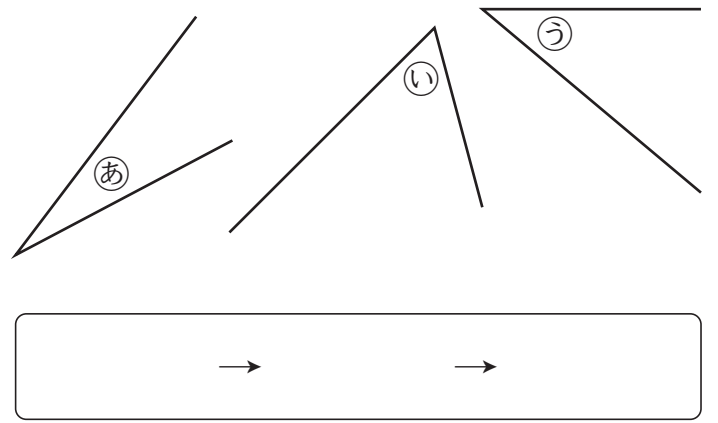
② 直角になっているのは、どの角  
 ですか。全部書きましょう。

の角

③ ⑥の角と同じ大きさの角はどれで  
 ですか。

の角

③ 下の角の大きさを、三角じようぎを  
 使っくらべ、大きい順じゆんに記号で  
 書きましよう。



⚠ 次の問題は、まだ学習していない内ようです。

①  にあてはまる数を書きましよう。

① 1直角 =  度

② 分度器ぶんどきの小さい1めもりは、

度です。